

POZNAJEMY PUSZCZĘ BIAŁOWIESKĄ

Zadanie 1 Wpisz do tabeli cechy lasu gospodarczego i cechy lasu pierwotnego.

Las gospodarczy	Las pierwotny

Zadanie 2 Jakimi cechami charakteryzuje się las naturalny? Uzupełnij zdania.

Przez **las naturalny** rozumie się taki las, w którym gospodaruje głównie

Las naturalny różni się od pierwotnego tym, że pobiera z niego ograniczony użytek jednak poza tym o składzie gatunkowym lasu decyduje

Zadanie 3 Korzystając z powyższych zadań i innych źródeł informacji wpisz jakimi cechami charakteryzuje się Puszcza Białowieska. Przy każdej literze alfabetu wpisz co najmniej jedną cechę.

Puszcza Białowieska jest:

A	I	P
B	J	R
C	K	S
D.....	L	T
E	ł	W
F	M	Z
G.....	N	
H	O	

CO SIĘ DZIEJE ZIMĄ W LESIE?

Zadanie 1 Jak zwierzęta spędzają zimę? Połącz nazwy zwierząt ze sposobami spędzania zimy. Możliwości może być kilka.



Zadanie 2 Wyjaśnij pojęcia :

HIBERNACJA -

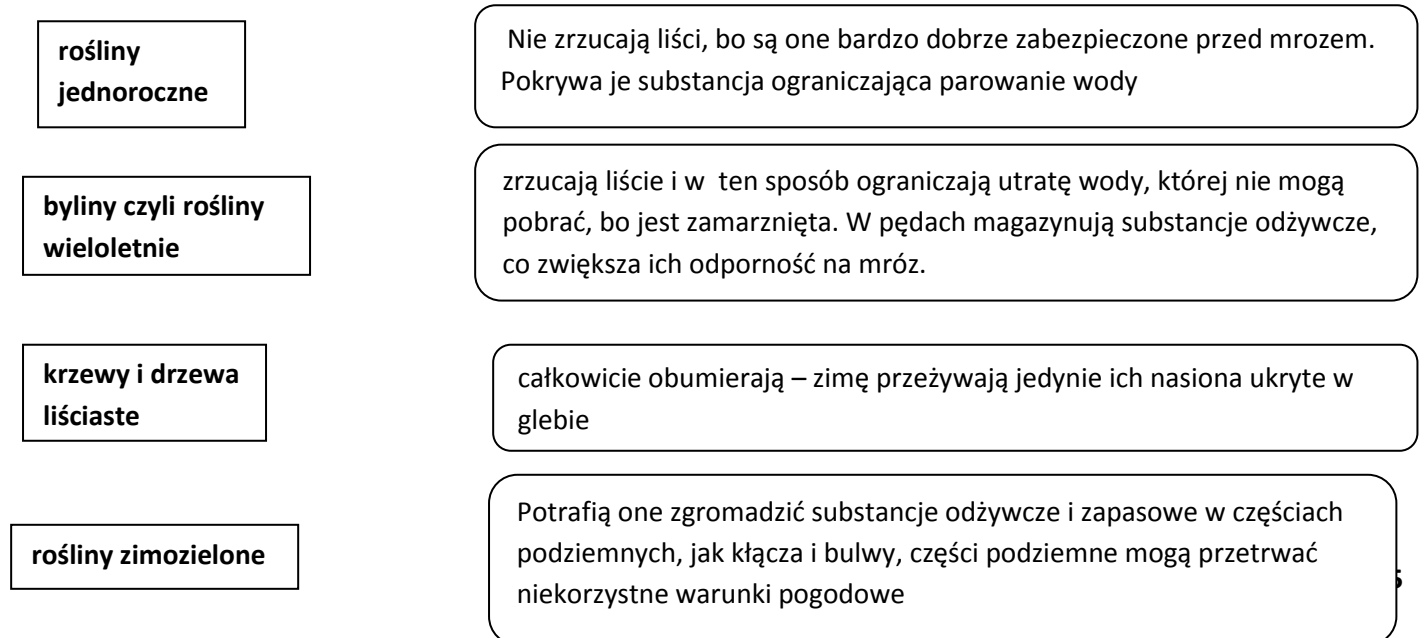
PODSZERSTEK-

ŚLADY -

TROPY -

Zadanie 3

Co się dzieje zimą w świecie roślin? Połącz grupy roślin ze sposobem radzenia z niskimi temperaturami zimą.




SSAKI PUSZCZY BIAŁOWIESKIEJ

Zadanie 1 W Puszczy Białowieskiej występuje 59 gatunków ssaków. Postaraj się wymienić jak najwięcej gatunków.

.....
.....
.....
.....
.....

Zadanie 2 Wypełnij dane w dowodzie osobistym żubra nizinnego.

Rzeczpospolita Polska		DOWÓD OSOBISTY	
	GATUNEK		
	PŁEĆ		
	IMIĘ		
	IMIONA RODZICÓW		
	ADRES		
	MIEJSCE URODZENIA		
	DATA URODZENIA		
	WZROST		
	WAGA		
	KOLOR FUTRA		
Data wydania dowodu		Osoba wydająca dowód osobisty	

Zadanie 3

Kiedy to było? Ponumeruj według kolejności chronologicznej wymienione wydarzenia i wpisz odpowiednią datę.

- Rodzi się pierwszy „wolnościowy” żuberek w Puszczy Białowieskiej.
- W Puszczy Białowieskiej żyje ponad 700 żubrów.
- Powstało Międzynarodowe Towarzystwo Ochrony Żubra, które naliczyło 54 żubry na całym świecie.
- Pierwsze prawo mówiące o ochronie żubra.
- Żubry powracają do Puszczy do specjalnie przygotowanego zwierzyńca.
- Liczba żubrów w Puszczy przekroczyła 200 sztuk, rozpoczęto regulację liczebności stada.
- Ginie ostatni wolnożyjący żubr w Puszczy Białowieskiej i na świecie.
- Dwa pierwsze żubry opuszczają rezerwat.
- Liczba żubrów w polskiej części Puszczy przekroczyła 600 sztuk.

DRZEWA PUSZCZY BIAŁOWIESKIEJ

Zadanie 1

W Puszczy Białowieskiej rośnie 26 gatunków drzew. Ile gatunków potrafisz wymienić?

.....
.....

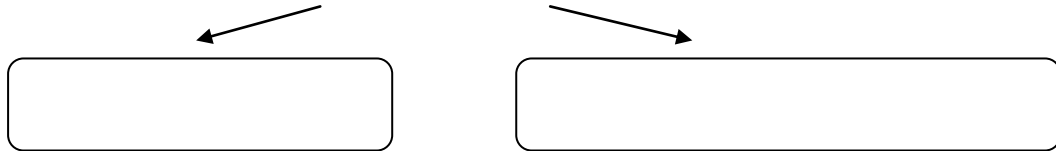
Zadanie 2

Po jakich cechach rozpoznajesz gatunek drzewa?

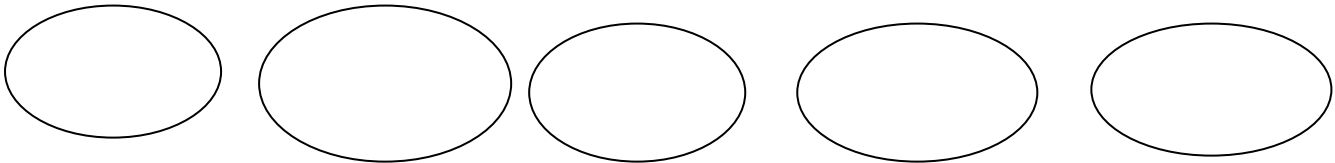
.....

Zadanie 3 *Uzupełnij.*

Rodzaj zbiorowiska leśnego zależy przede wszystkim od dwóch czynników.



Podstawowe zbiorowiska leśne, które możemy obserwować w Puszczy Białowieskiej to:



Zadanie 4

Które z wyżej wymienionych zbiorowisk leśnych zaobserwowałeś wędrując ścieżką edukacyjną? Jakie gatunki drzew są charakterystyczne dla tych zbiorowisk?

Rodzaj zbiorowiska		Gatunki drzew
<input type="text"/>	→
<input type="text"/>	→
<input type="text"/>	→

